

# **UNITE ET DIVERSITE DES SUDS : L'EXEMPLE DU BRESIL**



*Il s'agit de retrouver et de comprendre les manifestations des inégalités de développement sur le territoire brésilien .*

Cinquième pays par la superficie et la population, le Brésil renferme plus de 182 millions d'habitants et possède un PNB de 892.8 milliards de dollars (14° en 2005).

Le Brésil s'étend de l'équateur au tropique du Capricorne, entre le 36° et le 72° Ouest. C'est un quasi continent dont une grande partie est occupée par le bassin amazonien. La population est concentrée dans l'Est du pays, sur le littoral et particulièrement dans le sud est du pays, ce que les brésiliens appellent le SUDESTE.





## BILAN DU MONDE 2007 :

*Le Brésil connaît une stabilité inédite en cinq décennies de statistiques. L'endettement est stabilisé...l'inflation n'a jamais été aussi basse à 3,2%. Mais le Brésil ne réussit pas à renouer avec une croissance forte. Depuis 1994 la moyenne est de 2,5%. Le géant latino-américain a connu une croissance à deux chiffres dans les années 1970 lorsqu'il vivait sa période d'industrialisation. Aujourd'hui le secteur tertiaire représente 75% de l'activité et l'industrie commence à pratiquer des plans sociaux...La bourse famille, aide allouée à 11 millions de foyers a enfin modifié les statistiques. En 2005 les salaires par tête ont augmenté de 4,6% pour la première fois depuis 1996 et 300.000 familles sont sorties de l'extrême pauvreté : du jamais vu en 15 ans.*



## BILAN DU MONDE 2008 :

*Les importations sont stimulées par une monnaie brésilienne qui prend de la valeur (le real). Mais cela ne gêne pas les exportations, et la balance commerciale est restée positive. Les produits « made in Brazil » bénéficient d'un contexte international favorable – la Chine reste un important client – et restent compétitifs sur le marché mondial. Pour freiner l'envolée du real dans les années passées, le Brésil a acheté massivement des dollars. Cette réserve a eu une importance capitale lors de la crise du crédit survenue aux EUA. La bourse de Sao Paulo n'a éprouvé qu'une crainte passagère : cette sagesse devrait être récompensée l'an prochain par de meilleures notations financières. Par ailleurs, l'organisation de la coupe du monde de football en 2014 devrait dynamiser les projets d'infrastructures. Lentement mais régulièrement, la pauvreté diminue au Brésil. Plus de 600.000 familles ont quitté la misère en 2007. 7 à 10 millions de personnes appartenant à la catégorie des « pauvres » se sont hissés dans la « classe moyenne basse », mais leur position demeure instable. Ces nouveaux membres de la classe moyenne sont peu cultivés et ne valorisent pas les études, risquant ainsi le déclassement. La croissance démographique se ralentit, le nombre d'enfants par femme diminue à la ville comme à la campagne. Sur 184 millions d'habitants, 83% vivent en milieu urbain.*



## I – Un pays du sud qui a du poids

Le problème de la dette :

*Dans les années 1980 et 1990, le gouvernement brésilien a dû appliquer des programmes d'austérité, limiter la hausse des salaires en dessous du taux de l'inflation, lancer une série de plan de stabilisation. Malgré leur brutalité, ces plans ont toutefois été acceptés, car ils étaient le seul espoir d'éviter la banqueroute, avec ses conséquences en chaîne sur le système financier international. Les créanciers du Brésil l'ont bien compris ; ils se sont bien gardés de le prendre à la gorge et ont fait preuve de beaucoup de compréhension . La taille même de la dette donnait d'ailleurs au débiteur un moyen de pression sur les banquiers, et dans le jeu de chantage réciproque que jouaient le Brésil et ses créanciers, on ne savait plus très bien qui tenait qui.*

Le Brésil : changement de cap ? H.Théry doc photo,  
janv-fév. 2005



## La voix du Brésil :

*Le Brésil a acquis le statut de chef de file des pays du sud . Il en a fait la démonstration en septembre dernier, à Cancun, en constituant , avec l'aide de la Chine et de l'Inde, un groupe de 22 pays émergents, le G 22, qui a fait barrage aux prétentions des pays du Nord en matière de circulation des produits industriels. Faute d'avoir obtenu de ces derniers qu'ils cessent de subventionner leur agriculture, le G 22 a fait échouer la V<sup>o</sup> conférence ministérielle de l'OMC. ....Pour contrer les menaces que fait peser la globalisation libérale sur les fragiles économies nationales, il a renforcé l'unité des pays de la région autour du MERCOSUR et de la communauté andine des nations .*

Article de [www.jeuneafrique.com](http://www.jeuneafrique.com), janvier 2004



## Le poids du Brésil en Amérique latine .

*Dans l'été 2004, les troupes brésiliennes interviennent en Haïti, sous le béret bleu de l'ONU.. Le Brésil change d'attitude, c'est la première intervention à l'étranger depuis 1965, probablement pour appuyer sa candidature au Conseil de Sécurité.. C'est aussi un symbole de son nouveau statut de puissance régionale, qui a son revers : lors des troubles de 2003 en Bolivie, à propos de la vente de gaz Bolivien, le Brésil qui est le principal exploitant de celui ci a dû envoyer un avion militaire pour évacuer des ressortissants de La Paz . Bienvenue au club des grandes puissances, avec ses grandeurs et ses servitudes .*

*Le Brésil : changement de cap ?* H.Théry doc photo,  
janv-fév. 2005

- ① ➔ A l'aide des trois textes précédents, précisez quelle est la place du Brésil aujourd'hui, en quoi il constitue une puissance importante sur le continent américain et dans le monde .



②➔ la question agricole :

## **Le Brésil, ferme du monde ?**

Si le Brésil est encore un nain dans le commerce international avec 1% des échanges, son palmarès dans le domaine agricole est déjà impressionnant : premier producteur et exportateur mondial de sucre, de café, de jus d'orange, premier exportateur mondial de tabac, de viande bovine et de poulet, deuxième exportateur de soja. Au total il arrive sur la troisième marche du podium derrière les Etats-Unis et l'Union Européenne. Ses exportations ont été multipliées par deux au cours des quatre dernières années. Et ses nouveaux clients sont la Chine, l'Inde, la Russie, l'Afrique du Sud....Il est facile alors de comprendre pourquoi le Brésil est aussi agressif au sein de l'organisation mondiale du commerce pour obtenir une libéralisation des échanges agricoles et la fin des subventions que pratiquent à haute dose américaines et européens. ...En arrivant au pouvoir en 2003, Lula a très vite compris qu'il commettrait une grosse erreur en se mettant à dos le puissant secteur de l'agrobusiness...Le bon sens de Lula se résume pour 2004 à un chiffre : 34 milliards de dollars, l'excédent de la balance commerciale pour le seul secteur de l'agriculture...Sans cela le ministre des finances brésilien n'aurait sans doute pas pu annoncer, en mars, que le pays avait décidé de se passer de l'assistance du FMI. Le gouvernement gère ce pactole main dans la main avec les fazendeiros – les grands propriétaires –... Cela a évidemment de quoi heurter l'électorat de base de Lula...Le Mouvement des Sans-Terre vient d'ailleurs de rappeler au président ses engagements précédents. L'interpellation ne porte pas seulement sur la redistribution promise des terres, dans un pays qui détient toujours la palme des inégalités – 1% des plus riches possédant 45% des surfaces exploitées – , elle questionne aussi sur la place que peuvent espérer occuper les fermes familiales qui produisent, pour l'essentiel, l'alimentation de base de la population.

art. de L.Caramel, mai 2005, *Le Monde Dossiers et Documents*, septembre 2005

- 1 – quelle est la situation de l'agriculture brésilienne ? En quoi peut-on dire qu'elle est duale ?
- 2 – quel avantage le Brésil tire-t-il de l'agriculture des grands propriétaires ?
- 3 – quel problème social interne cela pose-t-il ?



## II – les inégalités sociales

① ➔ En quelques mots, présentez les contrastes sociaux dans l'espace urbain à partir de la photo suivante





Même question....



Qu'apporte le document 12 p 257 ?



Quels aspects des problèmes agraires sont présentés par les documents de la page 256 ?

A votre avis comment la forêt amazonienne a été utilisée pour remédier à ces problèmes ?



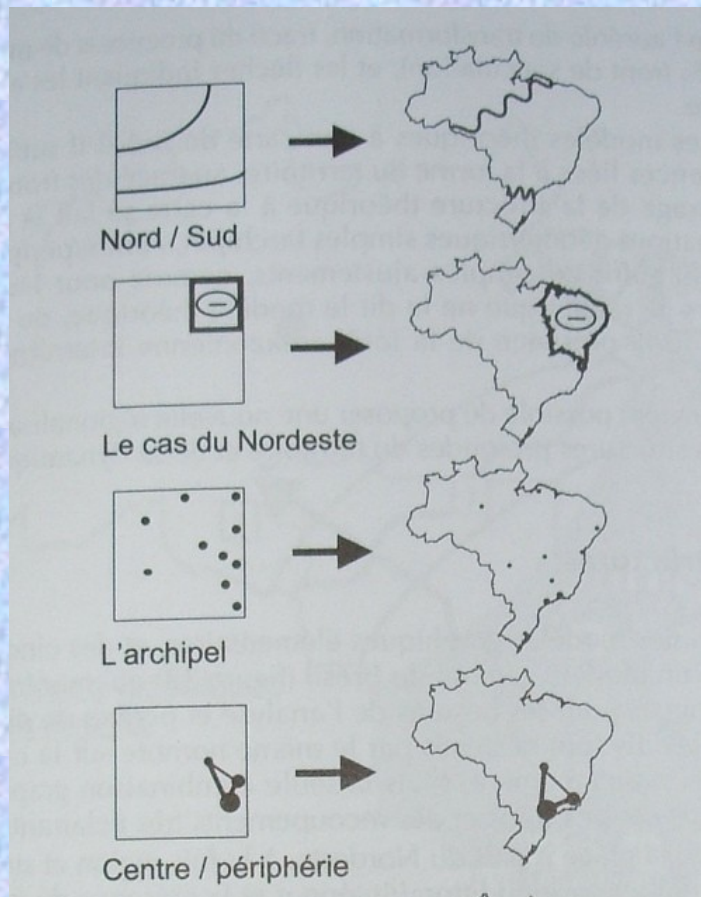
Sem-terra ocupam três fazendas em Pernambuco





### III – un territoire en déséquilibre ?

- ➔ quels sont les contrastes sur le territoire brésilien qui apparaissent dans le dossier présenté aux pages 254-255 ?
- ➔ comment le nordeste apparaît dans les documents 3, 4 et 6 p 255 ?

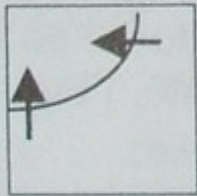


Expliquez chacun de ces éléments fondamentaux de l'espace brésilien

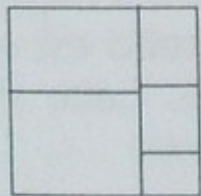




Littoral / intérieur



Le front pionnier



Les régions

©HT2005

**Figure 31** Six structures élémentaires

idem